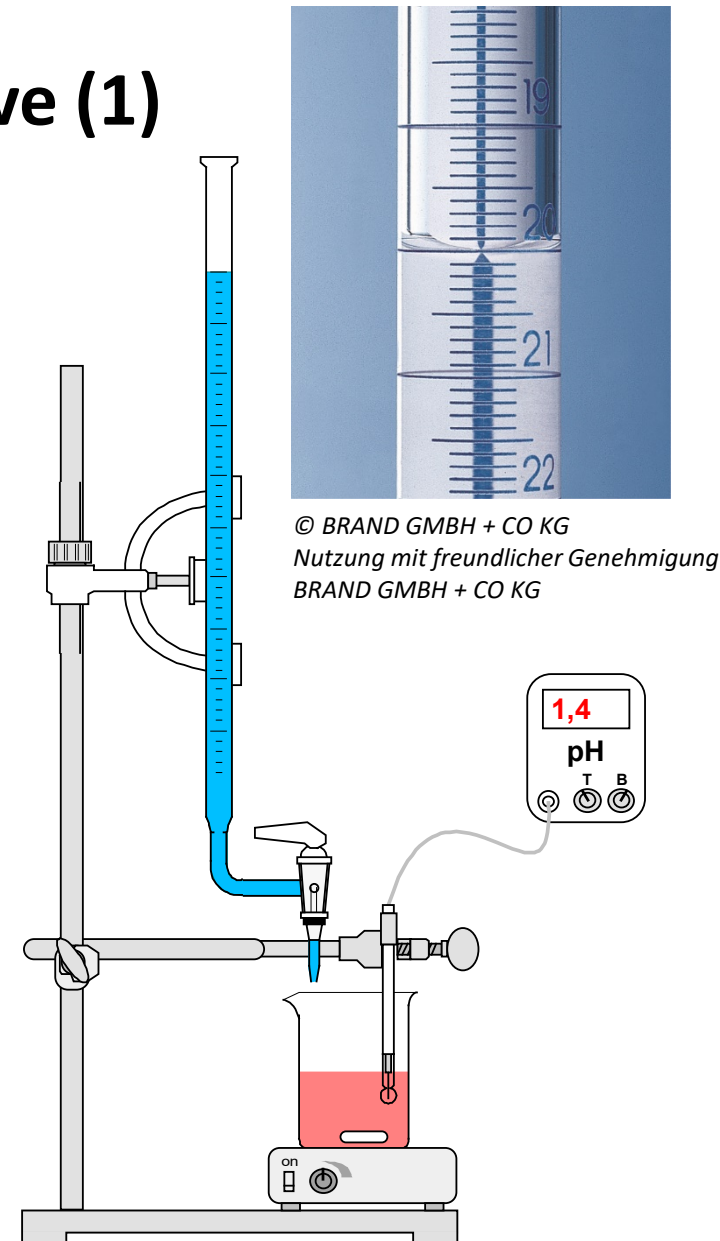


SE: Aufnahme einer Titrationskurve (1)

Aufbau der Messapparatur

- Bauen Sie nebenstehende Apparatur, bestehend aus einem Stativ, einer Stativklammer mit Muffe, einem Bürettenhalter mit Glasbürette, einem Laborrührer mit Rührfisch und einer mit dem Messwerterfassungssystem verbundenen pH-Sonde auf. Das Becherglas erhalten Sie später (vorbereitet mit der zu titrierenden Lösung).
- Machen Sie sich mit der Benutzung des Hahns der Bürette vertraut sowie mit der Skala und dem Ablesen der Volumenangaben der Bürette vertraut.
- Befüllen Sie [ACHTUNG: SCHUTZBRILLE!] die Bürette mit der Natronlauge ($c(\text{NaOH}) = 0,1 \frac{\text{mol}}{\text{L}}$).
- Stellen Sie das vorbereitete Becherglas unter den Auslauf der Bürette, geben Sie den Rührfisch hinein und positionieren Sie die pH-Sonde.

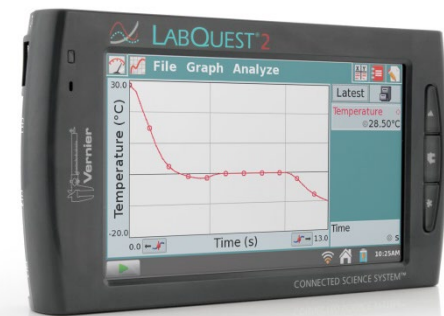


Grafik erstellt mit ACD ChemSketch unter
Verwendung der PIN-Laborgeräte-Bibliothek
von Dr. Thomas Epple

SE: Aufnahme einer Titrationskurve (2)

Vorbereitung des Messwerterfassungssystems

1. Durch Tippen auf die Anzeige **BETRIEBSART** ins Menü DATENERFASSUNG
2. Im Menü **DATENERFASSUNG**
 - Betriebsart: **ZEIT BASIERT** auswählen
 - Rate: **4** eingeben
 - Dauer: **600 s** eingeben
 - Mit **OK** bestätigen
3. Durch Tippen auf das GRAPHSYMBOL in der Menüleiste auf die GRAPHANZEIGE wechseln
4. Im Menü **GRAPH – GRAPHOPTIONEN**
 - **MANUELL** auswählen
 - Links: **0** eingeben
 - Rechts: **600** eingeben
 - Y-Achse – Oben: **14** eingeben
 - Y-Achse – Unten: **0** eingeben
 - Mit **OK** bestätigen



© Vernier Software & Technology
Quelle: <https://www.vernier.com/zoom/?id=74814>
Nutzung mit freundlicher Genehmigung Vernier
Software & Technology

SE: Aufnahme einer Titrationskurve (3)

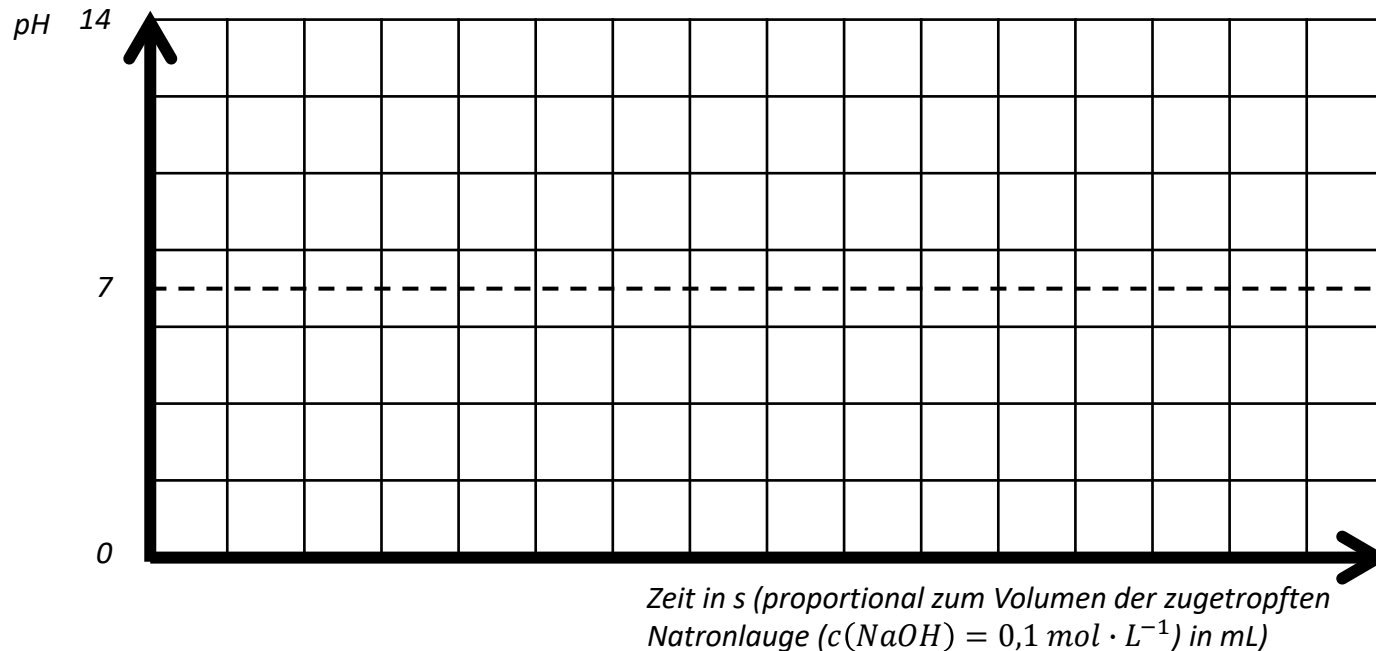
Durchführung der Messung [ACHTUNG SCHUTZBRILLE!]

1. Laborrührer einschalten (angemessene Geschwindigkeit!).
2. In der GRAPHANZEIGE unten links die Messwerterfassung durch Tippen auf das STARTSYMBOL (grüner Pfeil) beginnen.
3. Den Hahn der Bürette vorsichtig öffnen, dass ein gleichmäßiges Zutropfen gewährleistet ist. Die Tropfgeschwindigkeit ist zu Beginn der Messung möglichst zügig auf konstante ca. 2 Tropfen pro Sekunde einzustellen.
4. Beobachten Sie den Verlauf des Graphen auf dem Bildschirm.
5. Beenden Sie die Messung erst, wenn der Graph einen ausreichenden Bereich abbildet (er sollte ungefähr punktsymmetrisch aussehen).
 - Unten links die Messwerterfassung durch Tippen auf das STOPSYMBOL (rotes Quadrat) beenden.
 - Den Hahn an der Bürette schließen.
 - Den Laborrührer ausschalten.

SE: Aufnahme einer Titrationskurve (4)

Auswertung und Ergebnissicherung

1. Skizzieren Sie den Graphen schematisch in folgendes Schaubild



2. Zeichnen Sie in den Graphen den Äquivalenzpunkt und den Neutralpunkt (hier gilt: $pH = 7$) ein, und beschriften Sie diese entsprechend.
3. Erläutern Sie die Ursache für den Verlauf der Titrationskurve. Vergleichen Sie den Kurvenverlauf mit der Titration einer starken Säure mit einer starken Base und erläutern Sie die Unterschiede.